

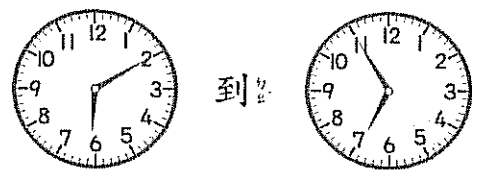


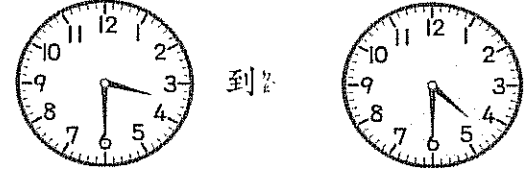
座號： 姓名：

一、填填看看：(每格 2 分 共 32 分)

1.  上圖時刻是()時()分，長針再走 2 小格，是經過()分鐘，是()時()分。

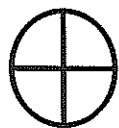
2.  左圖的時刻經過 40 分鐘是()時()分

3.  從 到 經過了()分鐘。

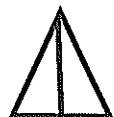
4.  從 到 一共經過了()小時，是()分鐘

5. $6+6+6+6+6$ 可以說成是()的()倍，是多多少?()。
6. 4 個 3 是多多少?()，可以用連加算式記成：()。
7. $4 \times 7 = ()$

二、有平行現象的在 裡打 \checkmark ，有垂直現象的在 裡畫 \bigcirc 。(共 6 分)







三、估估看看：(共 6 分)

哪一個數最接近正確答案？在 裡打 \checkmark 。

1. $71 - 29 = ?$
 30 40 50
2. $53 + 28 = ?$
 60 70 80
3. $37 + 22 = ?$
 60 50 40

四、1. 畫出一條水平線。 2. 畫出一條鉛直線。(每個答案 2 分，共 4 分)

1	2

五、算算看看。(共 12 分)

1. $63 + 28 + 17 =$
2. $59 - 25 + 41 =$
3. $76 - 44 - 27 =$
4. $7 + 7 + 7 + 7 + 7 + 7 =$

六、把做法和答案記下來。(40分)

1. 快樂農場裡有 48 隻雞，43 隻鴨和 22 隻鵝，一共有幾隻動物？

答：() 隻

2. 欣喜國小二年級一班到三班共 85 人，二年級一班有 27 人，二年級二班有 29 人，二年級三班有幾人？

答：() 人

3. 小穗有 93 個亮片，做卡片用掉 45 個，同學又給她 34 個，現在她有幾個亮片？

答：() 個

4. 一盒巧克力有 8 顆，4 盒共有幾顆巧克力？(用連加算式算)

答：() 顆

5. 做一份香蕉船要用 3 球冰淇淋，做 6 份香蕉船要用幾球冰淇淋？(用連加算式算)

答：() 球

6. 一輛車可以坐 5 個人，8 輛車可以坐幾個人？(用乘法算式算)

答：() 個人

7. 一束花有 8 朵，9 束共有幾朵花？(用乘法算式算)

答：() 朵

8. 小思的貼紙是小清的 6 倍，小清有 4 張貼紙，小思有多少張貼紙？(用乘法算式算)


答：() 張

9. 運動會 2 人一組跳健康操，7 組共有多少人？(用乘法算式算)

答：() 人

10. 小潔搓了 45 顆湯圓，小平搓了 38 顆，煮好後吃掉 16 顆後，還剩下幾顆湯圓？

答：() 顆



寫完了，再檢查！